

CHỦ ĐỀ 2

PHÉP CỘNG, PHÉP TRỪ TRONG PHẠM VI 20




BÀI 12

BẢNG TRỪ (QUA 10)





À, đó là các phép trừ qua 10.
Chúng ta hoàn thành luôn
bảng trừ (qua 10) nào!




Mình và Rô-bốt cùng hoàn thành
các phép trừ sau nhé!



	$11 - 4 = 7$
	$13 - 5 = 8$
	$12 - 3 = 9$
	$14 - 8 = 6$

À, đó là các phép trừ qua 10.
Chúng ta hoàn thành luôn
bảng trừ (qua 10) nào!



$11 - 2 = 9$

$11 - 3 = 8$

$11 - 4 = 7$

$11 - 5 = 6$

$11 - 6 = 5$

$11 - 7 = 4$

$11 - 8 = 3$

$11 - 9 = 2$

$12 - 3 = 9$

$12 - 4 = 8$

$12 - 5 = 7$

$12 - 6 = 6$

$12 - 7 = 5$

$12 - 8 = 4$

$12 - 9 = 3$

$13 - 4 = 9$

$13 - 5 = 8$

$13 - 6 = 7$

$13 - 7 = 6$

$13 - 8 = 5$

$13 - 9 = 4$

$14 - 5 = 9$

$14 - 6 = 8$

$14 - 7 = 7$

$14 - 8 = 6$

$14 - 9 = 5$

$15 - 6 = 9$

$15 - 7 = 8$

$15 - 8 = 7$

$15 - 9 = 6$

$16 - 7 = 9$

$16 - 8 = 8$

$16 - 9 = 7$

$17 - 8 = 9$

$17 - 9 = 8$

$18 - 9 = 9$

HOẠT
ĐỘNG





1 Tính nhẩm

$11 - 6 = 5$

$13 - 8 = 5$


$16 - 7 = 9$

$14 - 7 = 7$

$15 - 6 = 9$

$17 - 9 = 8$

2 Bạn nào cầm đèn ông sao ghi phép tính có kết quả bé nhất?



3 SỐ?

